


Musikschule



Musikkunde 3

Übungstest im Bassschlüssel 2.Auflage

Datum: _____

Name: _____

Instrument: _____

1. Gehörübungen:

a. Stelle fest, um welches Intervall es sich handelt (Grobbestimmung)!

Beispiel 1: _____

Beispiel 2: _____

Beispiel 3: _____

Beispiel 4: _____

4 mögliche Punkte

b. Bestimme die Dreiklänge (Dur, Moll, übermäßig oder vermindert)!

Beispiel 1: _____


Beispiel 2: _____

Beispiel 3: _____

Beispiel 4: _____

4 mögliche Punkte


c. Notiere die gehörte Melodie!



4 mögliche Punkte


2. Akkorde

a. Bilde den f-Moll Dreiklang mit Umkehrungen und benenne diese!



3 mögliche Punkte

b. Bilde folgende Vierklänge in Grundstellung!



Großer Durseptakkord auf a

Kleiner Mollseptakkord auf h

Halbverminderter Septakkord auf f

Verminderter Septakkord auf d

4 mögliche Punkte

Beurteilungsschlüssel:

32 – 29 Punkte	sehr gut
28 – 25 Punkte	gut
24 – 21 Punkte	befriedigend
20 – 17 Punkte	genügend
16 – 00 Punkte	nicht genügend

Gesamtpunktezahl:**Beurteilung:**

Unterschrift der korrigierenden Person:
